

Działania różne na ułamkach dziesiętnych

1. Wykonaj poniższe działania i wyniki wpisz w diagram.

POZIOMO

A) $2,9 \cdot 25 = \dots\dots\dots$

PIONOWO

D) $34,76 : 5,5 = \dots\dots\dots$



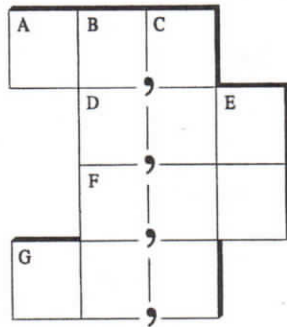
B) $8406,3 - 5799,3 = \dots\dots\dots$

F) $27,52 - 26,58 = \dots\dots\dots$

C) $2648,8 + 2741,2 = \dots\dots\dots$

G) $2401,3 : 64,9 = \dots\dots\dots$

E) $86,4 : 3,6 = \dots\dots\dots$



Czy wiesz, że

najdłuższa rzeka świata Nil w Afryce ma długość 6690 km, a najdłuższa rzeka Polski Wisła ma długość 1068 km? Ile razy Nil jest dłuższy od Wisły? (podaj wynik z dokładnością do drugiego miejsca po przecinku).

